


제 4 교시

사회탐구 영역(세계사)

성명 수험 번호

1. 다음 문화유산을 남긴 고대 문명에 대한 설명으로 옳은 것은?



스핑크스는 원래 사자의 몸과 인간의 머리를 가지고 있는 신화 속의 동물이다. 강력한 지배자였던 피라오스는 피라미드를 지키는 수호신으로 �핑크스를 세우도록 하였다. 왼쪽 그림의 �핑크스 조각상은 쿠푸 왕의 피라미드 인근에 자리잡고 있다.

- ① 사자의 서를 제작하였다.
- ② 함무라비 법전을 편찬하였다.
- ③ 콜로세움과 수도교를 건설하였다.
- ④ 모헨조다로 등 계획 도시를 세웠다.
- ⑤ 자연 현상을 찬미하는 베다를 만들었다.

2. 다음 자료에 나타난 관료 선발 제도에 대한 옳은 설명을 <보기>에서 고른 것은?

염찬은 계모를 봉양하였는데, 계모는 그를 미워하여 그가 금은보화를 도둑질했다고 관아에 고소하였다. 그래서 염찬은 10여 년 동안 관직에 나아갈 수 없었다. 하지만 원망하는 기색이 없이 더욱 효도를 다하였다. 훗날 계모의 마음이 풀리게 되었고, 염찬은 중정관(中正官)으로부터 원래의 향품(鄉品)을 되찾아 관직에 나아갈 수 있게 되었다.

— <보기> —

- ㄱ. 오경정의가 시험 교재로 이용되었다.
- ㄴ. 문벌 귀족 사회의 형성에 기여하였다.
- ㄷ. 관료 후보자를 9등급으로 나누어 평가하였다.
- ㄹ. 군국제의 실시를 뒷받침하기 위해 도입되었다.


- ① ㄱ, ㄴ ② ㄱ, ㄷ ③ ㄴ, ㄷ ④ ㄴ, ㄹ ⑤ ㄷ, ㄹ

3. 다음 자료에 나타난 제도에 대한 설명으로 가장 적절한 것은? [3점]

부족민 가운데 건장한 사람은 모두 병사가 되었다. 군대가 출병할 때, 지휘관은 맹안, 모크이라고 불렸다. 맹안(천을 뜻하는 '밍간'의 한자어)은 천 명 부대의 지휘관을 말하고, 모크(죽장을 뜻하는 '무케'의 한자어)은 백 명 부대의 지휘관이었다. 태조가 즉위한 뒤에는 300호를 모크, 10모크를 맹안이라고 불렀다.

- ① 팔기제의 붕괴 이후에 시행되었다.
- ② 여진족의 독자성 유지에 기여하였다.
- ③ 부병제에서 모병제로 변화하면서 성립되었다.
- ④ 동아시아 문화권을 형성하는 주요한 요소였다.
- ⑤ 유럽과 아시아를 잇는 역참제의 발전에 기여하였다.

4. (가) 인물에 대한 설명으로 옳은 것은? [3점]

제〇〇호	세계사 신문	〇〇년
		
특징: (가), 지배자의 새로운 이미지를 구현하다		
<p>이 조각상의 인물은 카이사르의 양자로서 삼두 정치를 종식시키고 평화와 번영의 시대를 열었다. 이에 원로원은 그의 공로를 기리기 위해서 그에게 아우구스투스라는 칭호를 수여하였다. 한편 그는 국가를 영도하는 성스러운 지도자의 이미지를 선전하기 위해서 자신을 근엄한 대사제의 모습으로 제시하였다. 경건한 종교적 지도자의 모습을 형상화한 이 조각상은 그의 이러한 의도를 잘 보여 주고 있다.</p>		

- ① 아케메네스 왕조 페르시아를 멸망시켰다.
- ② 밀라노 칙령을 통해 크리스트교를 공인하였다.
- ③ 제국을 4분하여 통치함으로써 혼란을 수습하였다.
- ④ 안토니우스와 클레오파트라와의 연합 함대를 격파하였다.
- ⑤ 포에니 전쟁에서 승리함으로써 카르타고를 정복하였다.


5. (가) 제국 시기의 교류에 대한 설명으로 옳은 것은? [3점]

지식 검색

지식 ●&A

질문 (가) 제국의 칸이 로마 교황에게 보낸 서신이 아직 남아 있다고 하는데 설명해 주세요.

답변 아래 문서는 구유크 칸이 보낸 것으로 알려져 있습니다. (가)의 군대가 동유럽을 침략하자 로마 교황은 수도사 카르피니를 보내 이들에게 크리스트교 신앙을 권유하였습니다. 이에 대하여 보낸 답신이라고 합니다.



- ① 현장이 대당서역기를 저술하였다.
- ② 제지술이 이슬람 지역에 전파되었다.
- ③ 취안저우가 국제 무역항으로 번성하였다.
- ④ 마테오 리치가 곤여만국전도를 제작하였다.
- ⑤ 인도와 동남아시아를 연결하는 바닷길이 개척되었다.

6. 다음 드라마의 등장인물이 활약하던 시대에 대한 설명으로 옳은 것은? [3점]



- ① 훈고학이 발달하였다.
- ② 갑골문이 출현하였다.
- ③ 균전제가 시행되었다.
- ④ 청담 사상이 나타났다.
- ⑤ 제자백가가 등장하였다.

7. (가), (나) 사이의 시기에 있었던 사실로 옳은 것은? [3점]

(가) 제4대 칼리프 알리는 유프라테스 강 상류에 위치한 싯핀에서 무아위야의 군대와 최후의 결전을 벌이게 되었다. ... (중략) ... 그러나 알리의 추종 세력들이 이탈하고 그를 지지했던 동맹군이 결속력을 상실하자 그의 권위는 실추되고 말았다. 결국 알리는 자신의 본거지였던 쿠파에서 암살당하였다. 이후 권력을 장악한 무아위야는 자신이 칼리프임을 선언하였다.

(나) 시아파의 지원으로 새로운 왕조가 수립된 이후에 제2대 칼리프 알 만수르는 도읍지를 새로 정하고 다음과 같이 선포하였다. “알라의 이름을 찬미하는 나의 백성과 군대를 온전히 부양할 수 있는 곳은 바로 여기 바그다드이다. 이제 각지의 물품들은 유프라테스 강과 티그리스 강, 운하 등을 통해 이 도시로 집결되어 우리에게 풍요로움을 많이 선사해 줄 것이다.”

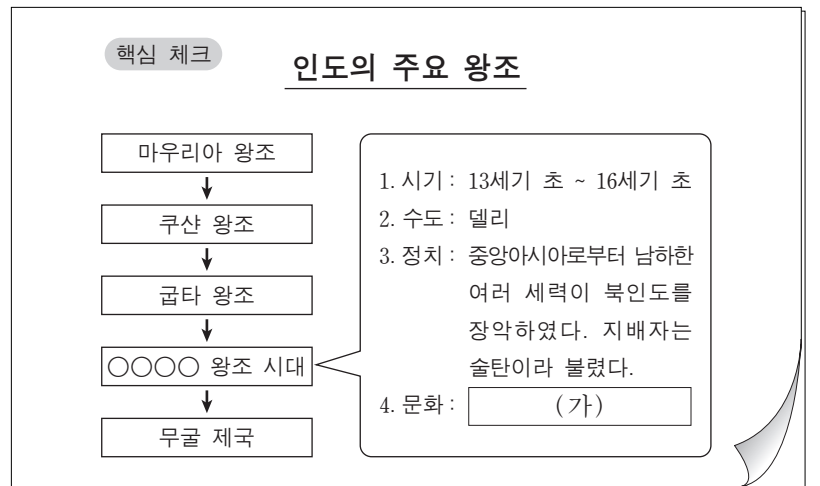
- ① 사산 왕조 페르시아가 멸망하였다.
- ② 군사적 봉건제인 티마르제가 실시되었다.
- ③ 이슬람 세력이 아라비아 반도를 통일하였다.
- ④ 술탄의 친위 부대인 예니체리가 창설되었다.
- ⑤ 이슬람 군대가 투르·푸아티에 전투에서 패배하였다.

8. 밑줄 친 ‘이 전쟁’에 대한 탐구 활동으로 가장 적절한 것은?



- ① 로올라가 예수회를 설립한 배경을 검토한다.
- ② 피핀이 교황에게 토지를 기증한 목적을 살펴본다.
- ③ 트리엔트 공의회에서 결정된 사항에 대해 알아본다.
- ④ 위기에 처한 비잔티움 제국의 대응 방안을 조사한다.
- ⑤ 콘스탄티노폴리스가 이스탄불로 개칭된 이유를 찾아본다.

9. (가)에 들어갈 내용으로 옳은 것은?



- ① 힌두교가 출현하였다.
- ② 이슬람교도가 늘어났다.
- ③ 간다라 미술이 나타났다.
- ④ 산치 대탑이 건설되었다.
- ⑤ 상좌부 불교가 성행하였다.

10. (가)~(마) 시기에 있었던 사실로 옳은 것은? [3점]

프랑스 혁명 연표*

1789	1791	1792	1794	1799	1804
(가)	(나)	(다)	(라)	(마)	
바스티유 함락	입법 의회 개원	공화정 수립	테르미도르 반동	나폴레옹 쿠데타	제정 수립

*혁명 전개 과정의 주요 사건과 그 연도를 표시함.

- ① (가) - 국민 의회가 결성되었다.
- ② (나) - 루이 16세가 처형되었다.
- ③ (다) - 혁명 전쟁이 시작되었다.
- ④ (라) - 총재 정부가 수립되었다.
- ⑤ (마) - 대륙 봉쇄령이 발표되었다.

11. 밑줄 친 '굴욕'의 원인에 대한 설명으로 옳은 것은? [3점]

나 하인리히 4세는 그레고리우스 7세에게 당한 굴욕을 씻고자 귀베르투스를 새 교황에 앉히고 로마로 진군하여 그레고리우스 7세를 권좌에서 축출하였노라.

파문을 철회해 준 은혜를 잊고 나를 쫓아내다니!



- ① 황제가 교회에 성상 숭배 금지령을 내렸다.
- ② 교황이 로마와 아비뇽에서 각각 선출되었다.
- ③ 국왕이 교황과의 대립 과정에서 삼부회를 소집하였다.
- ④ 콘스탄츠 공의회를 통해 실추된 교황권이 회복되었다.
- ⑤ 교황과 황제가 성직자 서임권 문제를 둘러싸고 대립하였다.

[12~13] 다음 자료를 읽고 물음에 답하시오.

군주 전제 정치체제가 오늘날의 세상에 맞지 않는다는 것은 자명하다. 국가를 논하는 자는 그 정치체제가 전제의 성격을 가지고 있는가의 여부에 따라 문명의 높낮이를 판단한다. 20세기에 진실로 새로운 정치체제를 이끌려면 반드시 전제 정치를 남김없이 씻어 내야 한다. 중국이 이전에 여러 차례 혁명을 경험하였으나 좋은 결과를 얻지 못했던 것은 정치체제를 바꾸지 못했기 때문이다. 명나라가 원나라를 이겼으나 3백 년도 못 되어 우리 한족은 다시 쇠퇴하였다. 이제 이민족 정부가 제거되고 한족 정부가 들어선다고 하더라도 여전히 군주 전제 정치체제가 지속된다면 만족할 수 없다.


12. 위 주장에 따른 근대화 운동에 대한 설명으로 옳은 것은? [3점]

- ① 삼민주의를 바탕으로 중화민국을 건설하였다.
- ② 중체서용을 바탕으로 군수 산업을 육성하였다.
- ③ 신식 학당을 개설하고 신군을 창설하는 신정을 실시하였다.
- ④ 입헌 군주제의 수립을 목표로 하는 정치 제도의 개혁을 주장하였다.
- ⑤ 민주주의와 과학 정신의 수용을 주장하는 신문화 운동을 전개하였다.

13. 밑줄 친 '이민족 정부'에 대한 설명으로 옳지 않은 것은?

- ① 변발과 호복 등의 풍습을 한족에게 강요하였다.
- ② 색목인을 우대하여 그들에게 재정 운영 업무를 맡겼다.
- ③ 러시아와 네르친스크 조약을 체결하여 국경선을 정하였다.
- ④ 만한 병용제를 실시하여 한족 관리도 고위직에 등용하였다.
- ⑤ 한족 학자들의 협조를 얻어 사고전서 등의 편찬 사업을 진행하였다.

14. 밑줄 친 '이 나라'에 대한 설명으로 옳은 것은? [3점]



- ① 근대화를 추구하는 동유 운동이 일어났다.
- ② '해방자' 볼리바르가 독립 운동을 주도하였다.
- ③ 아기날도가 무장 조직을 이끌고 독립 운동을 전개하였다.
- ④ 와하브(와하비) 운동이 전개되어 독립 정신이 고취되었다.
- ⑤ 브라모(브라흐마) 사마지 운동으로 민족의식이 고양되었다.

15. (가), (나) 주장에 대한 설명으로 가장 적절한 것은?

(가) 국왕의 권위는 신성하다. 신은 국왕을 자신의 사자로 삼아서 국왕을 통해 지배한다. 우리는 모든 주권이 신으로부터 온다는 것을 안다. 성 바울이 말하기를 "통치자는...(중략)... 공연히 칼을 차고 있는 것이 아닙니다. 그는 신의 심부름꾼으로서 악을 행하는 자들에게 신의 벌을 대신 주는 사람입니다."라고 하였다.

(나) 사람들은 무정부, 공포와 죽음의 상태에서 벗어나기 위해 강력한 정부에 의한 질서를 요구하게 되고, 개인 행동의 자유를 지배자의 손에 맡기기 위한 일종의 합의 내지 계약을 하지 않을 수 없다. 이 경우 지배자에게 무제한의 절대적 권력이 부여되어야 한다. 그렇지 않으면 질서를 유지할 수 없으며 사회는 또다시 '만인의 만인에 대한 투쟁'인 자연 상태로 돌아가기 때문이다.

- ① (가) - 청교도 혁명의 사상적 기반이 되었다.
- ② (가) - 로크와 루소에 의해서 계승·발전되었다.
- ③ (나) - 권리 청원의 승인에 기여하였다.
- ④ (나) - 영국 제임스 1세의 지지를 받았다.
- ⑤ (가), (나) - 절대 왕정을 지지하였다.

16. (가), (나) 시대에 대한 설명으로 옳지 않은 것은?

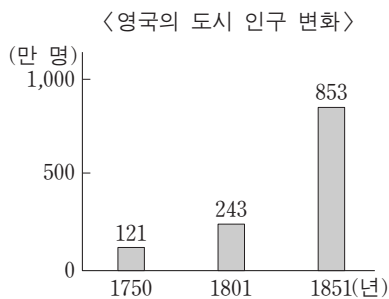
▲도판 □경교 시원
○관료 시원 ○조로아스터교 시원 대명궁

왼쪽 그림은 (가) 시대의 수도 장안성의 계획도입니다. 그리고 오른쪽 그림은 국풍 문화가 등장하는 (나) 시대의 관복입니다.

규모: 동서 약 9.5km, 남북 약 8.5km

- ① (가) - 중앙 통치 조직으로 3성 6부를 두었다.
- ② (가) - 마니교, 이슬람교 등의 외래 종교가 유행하였다.
- ③ (나) - 고유 문자인 가나가 만들어졌다.
- ④ (나) - 수도를 헤이안쿄로 옮기면서 시작되었다.
- ⑤ (가), (나) - 견당사를 통한 문물 교류가 지속되었다.

17. 그래프에 나타난 변화의 배경으로 가장 적절한 것은?



- ① 인클로저 운동이 전개되었다.
- ② 심사법과 인신 보호법이 제정되었다.
- ③ 3B 정책을 통해 식민지가 확대되었다.
- ④ 노동조합과 사회주의 정당이 등장하였다.
- ⑤ 삼포제가 도입되어 농업 생산성이 증대되었다.

18. (가), (나) 인물에 대한 설명으로 옳은 것은?

(가) 그는 물가가 폭등하고 실업자가 증가하는 사회 혼란을 틈타 파시스트당을 조직하였다. 민족주의 여론을 등에 업고 소시민층에서 인기를 끌게 되자, 당의 행동대인 '검은 셔츠단'을 이끌고 정권을 장악하였다.

(나) 그는 아리안 인종의 우월함을 강조하며 베르사유 체제를 거부하고 재무장을 주장하였다. 그의 국가사회주의 당은 경기 침체로 중산층이 동요하고 사회가 혼란한 상황에서 선거를 통해 제1당이 되고 마침내 권력을 장악하였다.

- ① (가) - 모로코 사태를 일으켜 프랑스와 대립하였다.
- ② (가) - 세계 대공황의 경제 위기 속에 권력을 장악하였다.
- ③ (나) - 인민 전선 정부 구성을 주도하였다.
- ④ (가), (나) - 일본과 협력하여 대외 팽창을 시도하였다.
- ⑤ (가), (나) - 제1차 세계 대전 패배로 인한 혼란을 세력 확대에 이용하였다.

19. 다음 자료에 나타난 시기의 경제 상황에 대한 옳은 설명을 <보기>에서 고른 것은?

신안 강을 젖줄로 삼은 휘저우 지방은 한 명이 유학을 공부하여 관료가 된다면, 상인은 세 명을 배출한다고 할 정도로 많은 상인과 관료를 배출한다. 상인이 되는 것은 많은 이익을 얻기 위함이고, 유학을 공부하는 것은 명성을 높이기 위함이다. 유학을 공부했으나 효과가 없으면 손을 떼고 장사에 힘을 써서 경제적 이익을 누린다. 이들은 각지에 회관과 공소를 세워 상호 이익에 힘쓴다. 하지만 자손이 명성을 날리기를 바라다면 오히려 장사보다는 유학 공부에 힘쓰도록 한다.

—<보기>—

- ㄱ. 세금이 은으로 징수되었다.
- ㄴ. 호족의 대토지 소유가 확대되었다.
- ㄷ. 담배, 고구마 등의 외래 작물이 경작되었다.
- ㄹ. 양쯔 강 하류의 강남 지방이 쌀의 주산지가 되었다.

- ① ㄱ, ㄴ ② ㄱ, ㄷ ③ ㄴ, ㄷ ④ ㄴ, ㄹ ⑤ ㄷ, ㄹ

20. 밑줄 친 '신정부'에 대한 옳은 설명을 <보기>에서 고른 것은? [3점]

한마디로 말하자면, 수세기 동안 이 나라의 정치를 근본적으로 대표해 온 봉건 제도가 이번 칙령에 의해 일거에, 게다가 최종적으로 폐지되었다. 그리고 정부는 지방과 중앙을 불문하고 제국을 통치하는 천황의 권력 아래로 귀속되었다. 이에 반대하는 의견은 어디서도 들리지 않는다. 또한 신뢰할 만한 정보에 따르면 신정부에 의한 이런 통합의 노력을 실질적으로 막으려는 움직임이 있을 가능성도 전혀 없다고 한다.

—『외국 신문에 비친 일본』—

—<보기>—

- ㄱ. 차별적 신분 제도를 폐지하였다.
- ㄴ. 국민개병의 징병 제도를 실시하였다.
- ㄷ. 미·일 수호 통상 조약을 체결하였다.
- ㄹ. 존왕양이를 내세워 막부 타도 운동을 전개하였다.

- ① ㄱ, ㄴ ② ㄱ, ㄷ ③ ㄴ, ㄷ ④ ㄴ, ㄹ ⑤ ㄷ, ㄹ

* 확인 사항

○ 답안지의 해당란에 필요한 내용을 정확히 기입(표기)했는지 확인하십시오.